

例題 2 数直線

右の数直線について、次の問いに答えなさい。



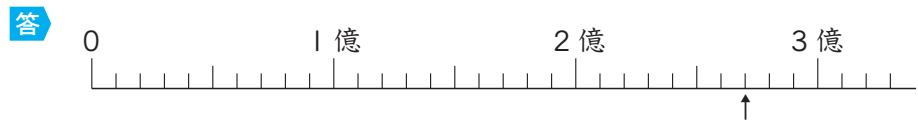
- (1) ア～ウのめもりが表す数はいくつですか。
 (2) 2億7000万を表すめもりに↑をかきなさい。

とき方 めもり10こで1億になるので、1めもりは1000万を表しています。

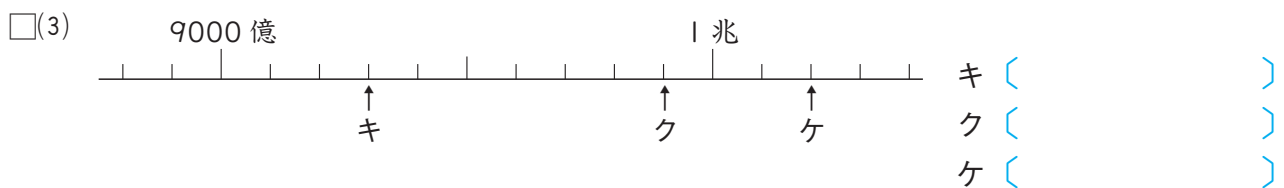
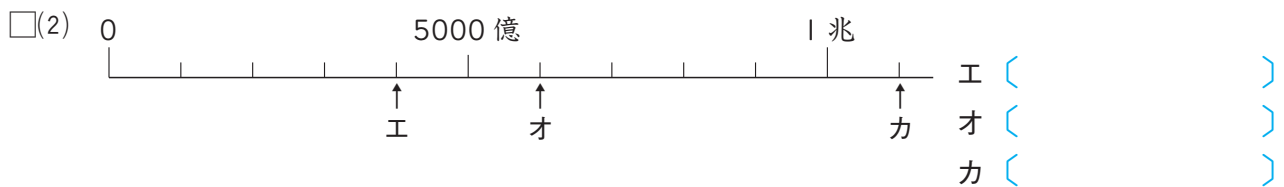
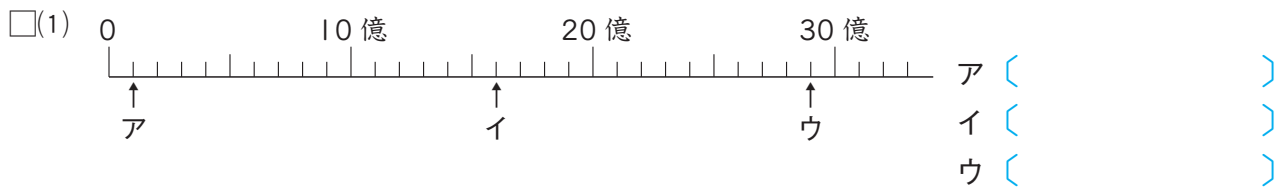
- (1) ア…めもり5こ分なので5000万です。
 イ…1億と3めもりです。
 ウ…3億と2めもりです。

答 ア…5000万, イ…1億3000万, ウ…3億2000万

- (2) 2億から7こ右のめもりです。



4 次の数直線で、ア～ケのめもりが表す数はいくつですか。



5 右の数直線について、次の問いに答えなさい。



- (1) 次の数を表すめもりに↑をかきなさい。

- ア 80億
 イ 240億

- (2) 次の数はいくつですか。数直線を見て答えなさい。

- ① 300億より10億大きい数 □② 300億より20億小さい数

())

())