

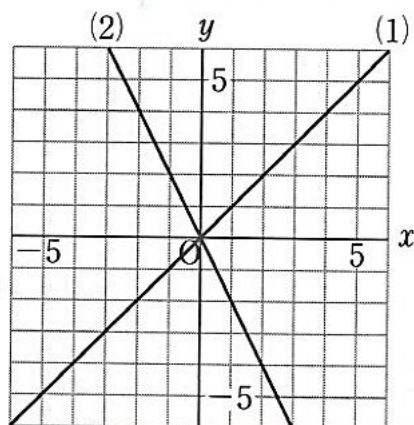
中1 数学 解答

問題1 (1)

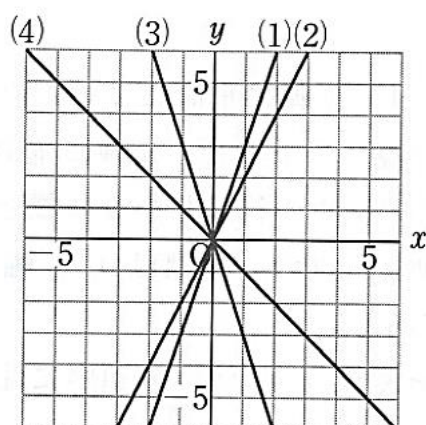
$x$	-3	-2	-1	0	1	2	3
$y$	-3	-2	-1	0	1	2	3

(2)

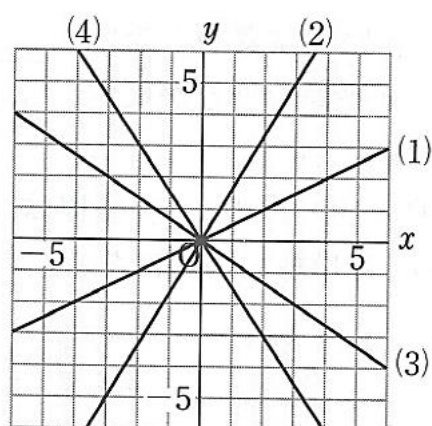
$x$	-3	-2	-1	0	1	2	3
$y$	6	4	2	0	-2	-4	-6



問題2



問題3



問題4 (1) ア, ウ, オ (2) イ